

Version No.			
2	1	0	1

ROLL NUMBER						



- 0
- 1
- 2
- 3
- 4
- 5
- 6
- 7
- 8
- 9

- 0
- 1
- 2
- 3
- 4
- 5
- 6
- 7
- 8
- 9

Answer Sheet No. \_\_\_\_\_

Sign. of Candidate \_\_\_\_\_

Sign. of Invigilator \_\_\_\_\_

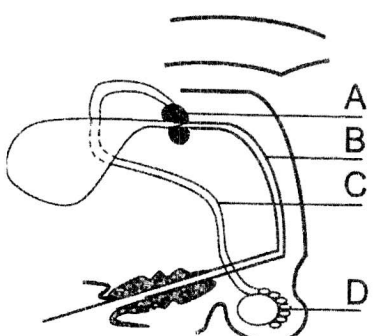
Section - A is compulsory. All parts of this section are to be answered on this page and handed over to the Centre Superintendent. Deleting/overwriting is not allowed. Do not use lead pencil.

**BIOLOGY SSC-II**  
**SECTION - A (Marks 12)**  
**Time allowed: 15 Minutes**

حصہ اول لازمی ہے۔ اس کے جوابات اسی صفحہ پر دے کر ناظم مرکز کے حوالے کریں۔ کات کردہ بارہ لکھنے کی اجازت نہیں ہے۔ لیل پینسل کا استعمال ممنوع ہے۔

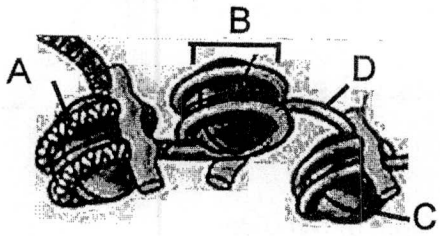
Fill the relevant bubble against each question:

ہر سوال کے سامنے دیئے گئے درست دائرہ کو پر کریں۔

- Which of the following options is related to Emphysema?  
 کونسی آپشن ایسی سے مطابقت رکھتی ہے؟  
 Destruction of alveolar wall occurs  
 ایلوولائی کی دیواریں ٹوٹ جاتی ہیں  
 Lung tissue is filled with pus  
 پھیپھڑے کے ٹیٹوز میں پس بھر جاتا ہے  
 Skin colour of patient becomes purplish  
 مریض کی جلد کی رنگت ارغوانی مائل ہو جاتی ہے  
 More mucous is produced in air passageways  
 ہوا کی نالیوں میں میوکس زیادہ بنتا ہے
- Select an example of commensalism from the following  
 درج شدہ میں سے کومن سٹیزم کی نشان دہی کریں:  
 Lion and Zebra  
 شیر اور زہیرا  
 Termite and protozoan  
 دیکھ اور پروٹوزون  
 Sucker fish and shark  
 سکرش اور شارک  
 Fox and rabbit  
 لومڑی اور خرگوش
- A horizontal underground stem with scale leaves and nodes is called:  
 زیر زمین افقی تنے جس پر چھلکا لہا پتے اور نوڈز ہوتے ہیں کیا کہلاتے ہیں؟  
 Tuber  
 ٹیوبر  
 Bulb  
 بلب  
 Rhizome  
 رائی رومز  
 Corm  
 کورم
- The given diagram is reproductive system of a male rabbit. Indicate the vas deferens  
  
 A  
 B  
 C  
 D  
 درج ڈایا گرام نر خرگوش کا ریپروڈکٹو سسٹم ہے۔ اس میں واس ڈیفیرنس کی نشان دہی کریں۔
- Digitalis a heart stimulant is obtained from  
 دل کو تحریک دینے کی دوا ڈیجیٹالس کس سے حاصل کی جاتی ہے؟  
 Bacteria  
 بیکٹیریا  
 Fungi  
 فنجائی  
 Poppy  
 پوسٹ  
 Foxglove  
 فاکس گلو
- Which may NOT be a cause of Osteoporosis  
 درج شدہ میں سے کیا اوسٹیوپوروسس کی وجہ نہیں ہو سکتی؟  
 Deficiency of estrogen  
 ایسٹروجن کی کمی  
 Lack of physical activity  
 جسمانی سرگرمیوں میں کمی  
 Decrease of growth hormone  
 گردتھ ہارمون کی کمی  
 Degeneration of cartilage  
 کارٹیلاج کا ختم ہونا

7. Which of the following is NOT a characteristic of Xerophyte?  
 کونسی خاصیت زیر وفا نہیں رکھتی؟
- Have deep roots  
 جڑیں گہری ہوتی ہیں
- Presence of parenchyma cells  
 ان میں غیر ٹیکسٹیلر ہوتے ہیں
- Have broad leaves  
 پتے چوڑے ہوتے ہیں
- Less number of stomata is present  
 ان میں سٹوما کم ہوتے ہیں

Select the histone protein from the diagram

8.   A  B  C  D

دی گئی ڈیاگرام میں ہسٹون کی نشان دہی کریں:

9. How many kinds of gametes can be formed by an organism having a genotype BbCc?  
 ایک جاندار جسکی جینوٹائپ Bb Cc ہے کتنی طرح کے مختلف گیمٹس بنا سکتا ہے؟
- 1  4  2  8

10. Which one is NOT the function of inner ear?  
 کونسا فنکشن اندرونی کان کا نہیں ہے؟
- Helps to maintain Balance  
 توازن برقرار رکھتا ہے
- Produces wax  
 ویکس بناتا ہے
- Helps in hearing  
 سننے میں مدد کرتا ہے
- Detects movement of head  
 سر کی حرکت کو محسوس کرتا ہے

11. Select the product which can be used for the production of bread:  
 کون سا پروڈکٹ بریڈ بنانے کے کام آتا ہے؟
- Lactic acid  
 لیکٹک ایسڈ
- Glycerol  
 گلیسرول
- Ethanol  
 ایٹھنول
- Formic acid  
 فورمک ایسڈ

12. Select a drug reducing irritability:  
 کونسی دوا ایجان کی کیفیت کو کم کرتی ہے؟
- Antibiotic  
 اینٹی بائیوٹک
- Sedative  
 سکون آور ادویات
- Analgesic  
 اینلجیٹک
- Vaccine  
 ویکسین

—2SA-I 2210- 2101 —

ROLL NUMBER					



# BIOLOGY SSC-II

36

**Time allowed: 2:45 Hours**

**Total Marks Sections B and C 53**

**NOTE:** Answer any eleven parts from section 'B' and attempt any two questions from Section 'C' on the separately provided answer book. Write your answer neatly and legibly.

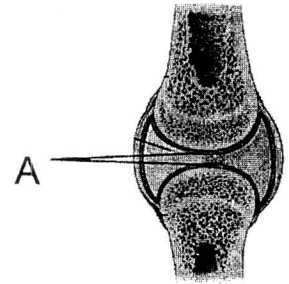
### SECTION – B (Marks 33)

**Q. 2 Answer any ELVEN parts from the following. All parts carry equal marks.**

(11 x 3 = 33)

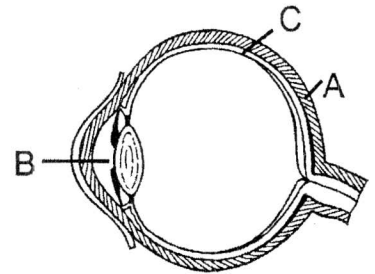
- (i) Describe the structure and function of larynx.
- (ii) The given diagram:
  - (a) Identify the type of cartilage A at the joint.
  - (b) Describe the characteristic of this cartilage and give example.
- (iii) In which part of nephron selective reabsorption takes place? And how?
- (iv) Complete the table:

	Hormone	Name of Gland
A	Parathormone	
B	Corticosteroids	
C	Glucagon	



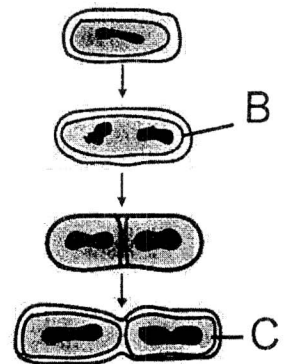
Q2 (ii)

- (v) In the given diagram:
  - (a) Label A and B
  - (b) What is C? Write down its function also.
- (vi) How is female gametophyte formed in a flowering plant?
- (vii) What is meant by an ecological pyramid? Explain by making a pyramid of number.
- (viii) In the given diagram:
  - (a) Identify the process in the given diagram
  - (b) Describe B and C stages.
- (ix) What is meant by the following terms?
  - (a) Heterozygous
  - (b) Genotype
- (x) Complete the table:



Q2(v)

	Drugs	Effects
A	Sedatives	
B	Hallucinogens	
C	Heroin	



Q2(viii)

- (xi) Differentiate between transcription and translation.
- (xii) Describe the variation showing a wide range of phenotypes. Give examples also translation.
- (xiii) What is meant by genetic engineering? Why do we use a microorganism in genetic engineering?
- (xiv) What sort of relationship is present in a food chain? Draw a simple food chain also.
- (xv) What are moveable joints? Write their types with examples.

### SECTION – C (Marks 20)

**Note:** Attempt any TWO questions from the following. All questions carry equal marks. (2 x 10 = 20)

- Q. 3 a. (i) Identify the structure in given diagram (06)
- (ii) How they are formed?
- (iii) Explain their Structure and function.
- b. Nitrogen fixation is an important step in the nitrogen cycle. What is meant by Nitrogen fixation? List various ways of Nitrogen fixation. (04)
- Q. 4 a. Describe a bone and explain its regions with the help of a diagram (05)
- b. What is fermentation? Discuss the production of fermented food. (05)
- Q. 5 a. Explain the reflex action with the help of a diagram. (05)
- b. Describe two methods of artificial vegetative propagation, of plants. (05)



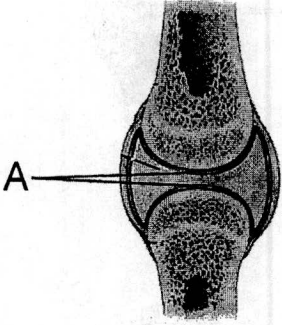
نوٹ: حصہ "دوم" اور "سوم" کے جوابات علیحدہ سے مہیا کی گئی جوابی کاپی پر دیں۔ حصہ دوم سے گیارہ (11) اجزاء اور حصہ سوم میں سے کوئی سے دو (02) سوال حل کریں۔ آپ کے جوابات صاف اور واضح ہونے چاہئیں۔

حصہ دوم (کل نمبر 33)

(11x3 = 33)

سوال نمبر ۲: مندرجہ ذیل میں سے کوئی سے گیارہ (11) اجزاء کے جوابات مختصر لکھیں۔ تمام سوالوں کے نمبر برابر ہیں۔

- (i) لیرکس کی ساخت اور فعل بیان کریں۔  
(ii) دی گئی ڈایا گرام میں الف۔ ہڈی کے جوڑ پر کونسی قسم کا کارٹیلج ہے؟ ب۔ اسکی خصوصیات بیان کریں اور مثال بھی دیں۔  
(iii) نیفرن کے کس حصے میں سلیکیٹوری لمبرزیشن ہوتی ہے اور یہ کیسے ہوتی ہے؟  
(iv) نیپیل مکمل کریں۔

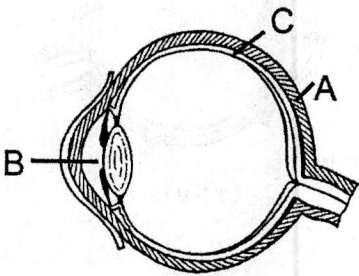


ہارمون	گلیڈ کے نام
الف	پیرا آتھارمون
ب	کارٹیکو سٹیروئڈز
ج	گلوکوکون

(v) دی گئی ڈایا گرام میں

الف۔ A اور B کو لیبل کریں۔ ب۔ C کیا ہے؟ اور اسکا کیا فنکشن بھی لکھیں۔

سوال نمبر 2(ii)



(vi) پھولدار پودوں میں مادہ گیسیٹو فائٹ کیسے بنتا ہے؟

(vii) ایکولوجیکل پائراڈ سے کیا مراد ہے؟ پائراڈ آف نمبر بنا کر واضح کریں۔

(viii) دی گئی شکل الف۔ یہ کون سا پروسس ہے؟ ب۔ سٹیج B اور C کو بیان کریں۔

(ix) دی گئی اصطلاحات سے کیا مراد ہے؟ الف۔ ہیٹرو ڈائیگس ب۔ جنیو ٹائپ

(x) نیپیل مکمل کریں:

نشر آور دوا	اثرات
الف	سیڈیٹوز
ب	ہیلوسی نو جنز
ج	ہیروئن

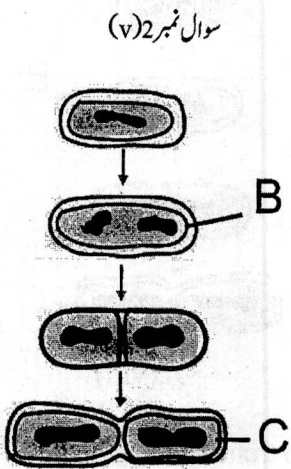
(xi) ٹرانسکرپشن اور ٹرانسلیشن میں فرق بیان کریں۔

(xii) کونسی تغیرات میں فیوٹائیس کی وسیع رینج ہوتی ہیں؟ مثالوں سے واضح کریں۔

(xiii) جنیٹک انجینئرنگ سے کیا مراد ہے؟ ہم اسمیں ایک مائیکرو آرگنزم کیوں استعمال کرتے ہیں؟

(xiv) فوڈ چین میں کس قسم کا تعلق پایا جاتا ہے؟ ایک سادہ فوڈ چین بنائیں۔

(xv) حرکت کرنے والے جو انٹنس کیا ہوتے ہیں؟ ان کی اقسام مثالوں کے ساتھ تحریر کریں۔



سوال نمبر 2(v)

سوال نمبر 2(viii)

حصہ سوم (کل نمبر 20)

(کوئی سے دو سوال حل کیجیے۔ تمام سوالوں کے نمبر برابر ہیں۔)

(02x10=20)

- (06) سوال نمبر ۳۰: الف۔ دی گئی ڈایا گرام کس چیز کی ہے؟  
(04) (ii) یہ کیسے بنتے ہیں؟  
(05) (iii) ان کی ساخت اور افعال بیان کریں۔  
(05) ب۔ نائٹروجن فیکسیشن نائٹروجن سائیکل کا ایک اہم مرحلہ ہے۔ اس سے کیا مراد ہے؟ اس کے مختلف طریقے کون سے ہیں؟  
(05) سوال نمبر ۳۱: الف۔ ڈایا گرام کے ذریعے ہڈی اور اسکے مختلف حصوں کو بیان کریں۔  
(05) ب۔ فرٹنیشن سے کیا مراد ہے؟ فرٹنیشن سے حاصل کی گئی خوراک بیان کریں۔  
(05) سوال نمبر ۳۲: الف۔ ریفلکس ایکشن کو ڈایا گرام کی مدد سے تفصیلاً سے بیان کریں۔  
(05) ب۔ مصنوعی و جینی ٹیو پروڈیگیشن کے دو طریقے بیان کریں۔

