



Roll No.

Answer Sheet No. \_\_\_\_\_

Sig. of Candidate. \_\_\_\_\_

Sig. of Invigilator. \_\_\_\_\_

13

**PAKISTAN STUDIES SSC-II**  
**SECTION – A (Marks 10)**

**Time allowed: 15 Minutes**

**NOTE:- Section-A is compulsory. All parts of this section are to be answered on the question paper itself. It should be completed in the first 15 minutes and handed over to the Centre Superintendent. Deleting/overwriting is not allowed. Do not use lead pencil.**

**Q. 1 Circle the correct option i.e. A / B / C / D. Each part carries one mark.**

- (i) In South Asia, through an Act the Viceroy Lord Rippon implemented the system of Local Government in:  
A. 1854 AD B. 1864 AD  
C. 1874 AD D. 1884 AD
- (ii) Pakistan did atomic blasts in:  
A. 1993 AD B. 1995 AD  
C. 1998 AD D. 2001 AD
- (iii) A war broke out between India and Pakistan on Kargil in:  
A. 1997 AD B. 1998 AD  
C. 1999 AD D. 2000 AD
- (iv) The \_\_\_\_\_ was established on 24th October, 1945.  
A. Organisation of Economic Co-operation B. Organisation of Islamic Conference  
C. United Nations D. Regional Co-operation for Development
- (v) Which country sent its forces into Afghanistan in 1979 AD?  
A. America B. Britain  
C. Russia D. France
- (vi) In 1974, the second Islamic Conference was held in:  
A. Pakistan B. Morocco  
C. Saudi Arabia D. Iran
- (vii) In 2012, the trade volume between Pakistan and European Union was \_\_\_\_\_ billion euro.  
A. 602 B. 702  
C. 802 D. 902
- (viii) In Pakistan \_\_\_\_\_ years, is the average age.  
A. 57 B. 60  
C. 63 D. 66
- (ix) Pakistan imports edible oil from America, Sri-Lanka and:  
A. Iran B. Saudi Arabia  
C. Hong Kong D. Malaysia
- (x) On 20th, December 1971 \_\_\_\_\_ took the oath of President of Pakistan and Chief Martial Law Administrator.  
A. Muhammad Khan Junejo B. Zulfikar Ali Bhutto  
C. Muhammad Nawaz Sharif D. Benazir Bhutto

**For Examiner's use only:**

**Total Marks:**

10

**Marks Obtained:**

Roll No. 

--	--	--	--	--	--

Answer Sheet No. \_\_\_\_\_

Sig. of Candidate \_\_\_\_\_

Sig. of Invigilator \_\_\_\_\_

**مطالعہ پاکستان (لازمی) ایس ایس سی-II**

حصہ اول (کل نمبر: 10)

وقت: 15 منٹ

نوٹ: حصہ اول لازمی ہے۔ اس کے جوابات پرچہ پر ہی دیے جائیں گے۔ اس کو پہلے پندرہ منٹ میں مکمل کر کے ناظم مرکز کے حوالے کر دیا جائے۔ کٹ کر دوبارہ لکھنے کی اجازت نہیں۔ لیڈ پنسل کا استعمال ممنوع ہے۔

سوال نمبر: دیے گئے الفاظ یعنی الف ب ر ج د میں سے درست جواب کے گرد دائرہ لگائیں۔ ہر جزو کا ایک نمبر ہے۔ (10)

(i) جنوبی ایشیا میں وائسرائے لارڈ رین نے ایک ایکٹ کے ذریعے \_\_\_\_\_ میں مقامی حکومتوں کا نظام نافذ کیا۔

الف۔ 1854ء ب۔ 1864ء

ج۔ 1874ء د۔ 1884ء

(ii) پاکستان نے ایشی دھماکے کیے:

الف۔ 1993ء ب۔ 1995ء

ج۔ 1998ء د۔ 2001ء

(iii) کارگل کے محاذ پر پاکستان اور انڈیا کی فوجوں میں جنگ چھڑ گئی:

الف۔ 1997ء ب۔ 1998ء

ج۔ 1999ء د۔ 2000ء

(iv) 24 اکتوبر 1945ء کو \_\_\_\_\_ کا قیام عمل میں آیا۔

الف۔ اقتصادی تعاون کی تنظیم ب۔ اسلامی سربراہی کانفرنس کی تنظیم

ج۔ اقوام متحدہ د۔ علاقائی تعاون برائے ترقی

(v) 1979ء میں کس ملک نے اپنی افواج افغانستان میں داخل کیں؟

الف۔ امریکہ ب۔ برطانیہ

ج۔ روس د۔ فرانس

(vi) 1974ء میں دوسری اسلامی سربراہی کانفرنس \_\_\_\_\_ میں منعقد ہوئی۔

الف۔ پاکستان ب۔ مراکش

ج۔ سعودی عرب د۔ ایران

(vii) 2012ء میں یورپی یونین کے ساتھ پاکستان کی تجارت کا حجم \_\_\_\_\_ بلین یورو تھا۔

الف۔ 602 ب۔ 702

ج۔ 802 د۔ 902

(viii) پاکستان میں اوسط عمر \_\_\_\_\_ سال ہے۔

الف۔ 57 ب۔ 60

ج۔ 63 د۔ 66

(ix) پاکستان کھانے کا تیل امریکہ، سری لنکا اور \_\_\_\_\_ سے درآمد کرتا ہے۔

الف۔ ایران ب۔ سعودی عرب

ج۔ ہانگ کانگ د۔ ملائیشیا

(x) 20 دسمبر 1971ء کو \_\_\_\_\_ نے بطور صدر پاکستان اور چیف مارشل لاء ایڈمنسٹریٹر کا عہدہ سنبھالا۔

الف۔ محمد خان جونیجو ب۔ ذوالفقار علی بھٹو

ج۔ محمد نواز شریف د۔ بے نظیر بھٹو

--

حاصل کردہ نمبر:

10

کل نمبر:

برائے ممتحن:



# PAKISTAN STUDIES SSC-II

14

Time allowed: 2:15 Hours

Total Marks Sections B and C: 40

**NOTE:-** Answer any eight parts from Section 'B' and any two questions from Section 'C' on the separately provided answer book. Use supplementary answer sheet i.e. Sheet-B if required. Write your answers neatly and legibly.

## SECTION - B (Marks 24)

Q. 2 Briefly answer any EIGHT parts from the following:

(8 x 3= 24)

- Write two duties of the union council.
- What is meant by Lahore Declaration?
- What is meant by Durand Line?
- Write the objectives for establishing United Nations.
- What is meant by Pakistan's Territorial Sovereignty and Security?
- Write the definition of economic progress as given by Professor Arthur Lewis.
- What is meant by exports and imports?
- What is meant by balance of Trade?
- What is meant by university education in Pakistan?
- Describe any six measures taken at the government level to resolve educational problems in Pakistan.
- Write the ideological objectives of Pakistan's foreign policy.

## SECTION - C (Marks 16)

Note: Answer any TWO questions from the following in detail.

(8 x 2 = 16)

- Explain Pakistan's Regional-cultural similarities as means of integration and cohesion.
- Explain the importance of the sea-ports and dry-ports of Pakistan.
- Write a detailed note on the Nuclear programme of Pakistan.

## حصہ دوم (کل نمبر 24)

(8x3=24)

سوال نمبر ۲: مندرجہ ذیل میں سے آٹھ (8) اجزاء کے مختصر جواب دیجیے:


- یونین کونسل کے دو ذرائع اخذ تحریر کریں۔
- اعلان لاہور سے کیا مراد ہے؟
- ڈیورنڈ لائن سے کیا مراد ہے؟
- اتحاد متحدہ کے قیام کے مقاصد تحریر کریں۔
- پاکستان کی علاقائی خود مختاری اور سالمیت سے کیا مراد ہے؟
- پروفیسر آرتھر لیویس کے مطابق معاش ترقی کی تعریف لکھیں۔
- برآمدات اور درآمدات سے کیا مراد ہے؟
- تجارت کے توازن سے کیا مراد ہے؟
- پاکستان میں یونیورسٹی کی تعلیم سے کیا مراد ہے؟
- پاکستان میں حکومتی سطح پر تعلیمی مسائل کے حل کے لیے کیے جانے والے چھ اقدامات تحریر کریں۔
- پاکستان کی خارجہ پالیسی کے نظریاتی مقاصد تحریر کریں۔

## حصہ سوم (کل نمبر 16)

(2x8=16)

(کوئی سے دو سوال حل کیجیے۔ تمام سوالوں کے نمبر برابر ہیں۔)

- سوال نمبر ۳: پاکستان کی علاقائی ثقافتی مماثلتیں ذریعہ یک جہتی و یکاگت ہیں۔ وضاحت کریں۔
- سوال نمبر ۴: پاکستان کی بندرگاہوں اور خشک گودیوں کی اہمیت تحریر کریں۔
- سوال نمبر ۵: پاکستان کے جوہری پروگرام پر مفصل نوٹ تحریر کریں۔





Roll No.

Answer Sheet No.

Sig. of Candidate.

Sig. of Invigilator.

15

## PAKISTAN STUDIES SSC-II SECTION – A (Marks 15)

Time allowed: 20 Minutes

(Old Syllabus)

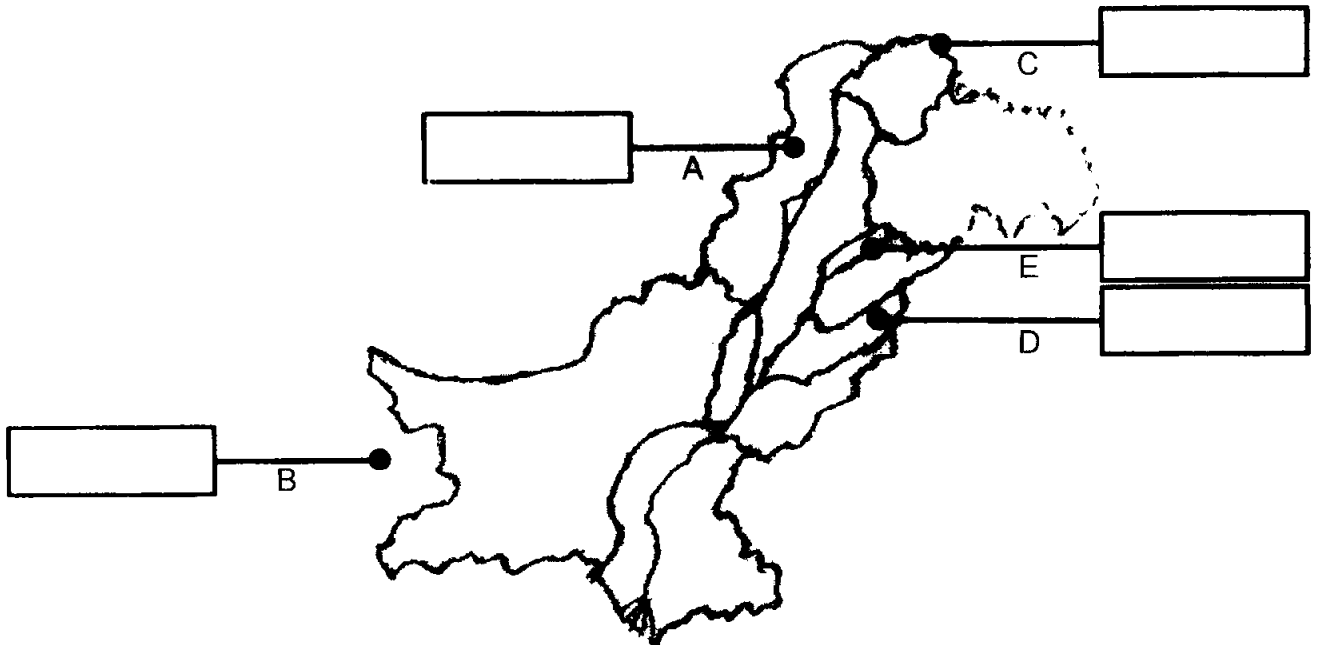
NOTE:- Section-A is compulsory. All parts of this section are to be answered on the question paper itself. It should be completed in the first 20 minutes and handed over to the Centre Superintendent. Deleting/overwriting is not allowed. Do not use lead pencil.

Q. 1 A. Circle the correct option i.e. A / B / C / D. Each part carries one mark. (10)

- (i) Quaid-e-Azam Left congress in:  
A. 1918 AD      B. 1919 AD      C. 1920 AD      D. 1921 AD
- (ii) Haji Sharia't Ullah died in:  
A. 1838 AD      B. 1840 AD      C. 1841 AD      D. 1842 AD
- (iii) Second Islamic Summit was held at Lahore in:  
A. 1972 AD      B. 1973 AD      C. 1974 AD      D. 1975 AD
- (iv) Pakistan Shares \_\_\_\_\_ km long border line with Iran.  
A. 800      B. 820      C. 840      D. 850
- (v) KANUP'S gross production capacity is \_\_\_\_\_ Mw.  
A. 135      B. 137      C. 140      D. 142
- (vi) At the time of independence, Pakistan had only \_\_\_\_\_ textile units.  
A. 10      B. 12      C. 15      D. 17
- (vii) The density of population in Pakistan according to 1998 census was \_\_\_\_\_ per km<sup>2</sup>.  
A. 150      B. 160      C. 164      D. 172
- (viii) First Balochi Journal was published in:  
A. 1958 AD      B. 1960 AD      C. 1962 AD      D. 1964 AD
- (ix) In the year 2000 literacy rate in Pakistan was estimated at:  
A. 45%      B. 47%      C. 49%      D. 50%
- (x) Only \_\_\_\_\_ out of every five Pakistani children go/goes to school.  
A. 1      B. 2      C. 3      D. 4

B. Identify and name the following on the map: (05)

A – Dam	B – Country	C – Pass	D – Air port	E – River
---------	-------------	----------	--------------	-----------



For Examiner's use only:

Total Marks:

Marks Obtained:

## مطالعہ پاکستان (لازمی) ایس ایس سی-II

(Old Syllabus)

حصہ اول (کل نمبر: 15)

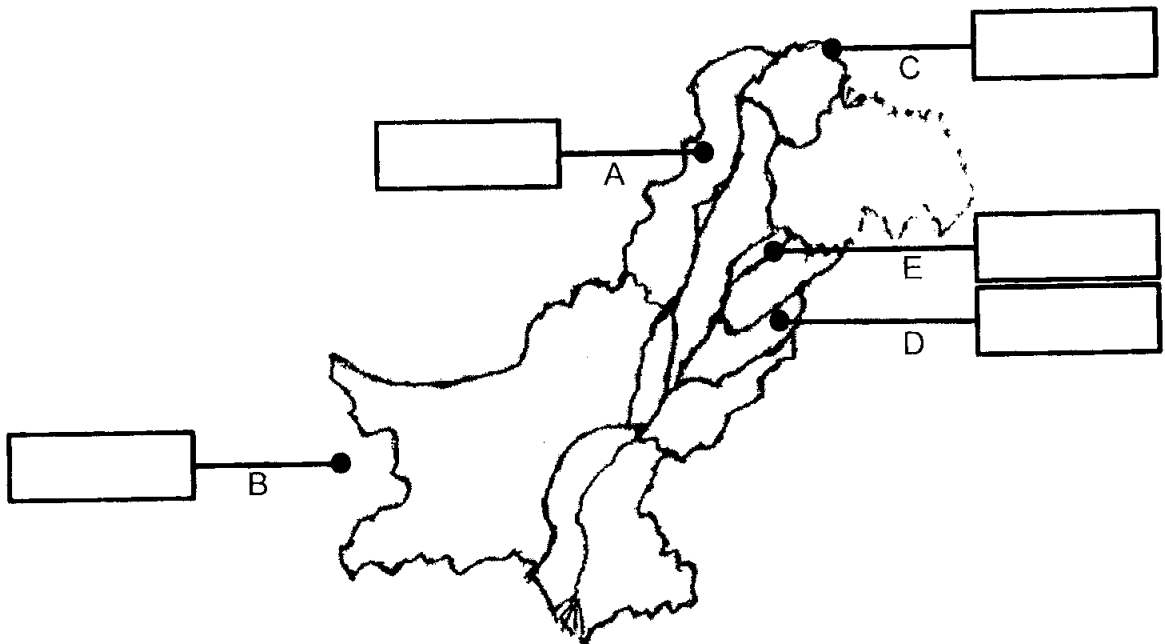
وقت: 20 منٹ

نوٹ: حصہ اول لازمی ہے۔ اس کے جوابات پر پے پری دیے جائیں گے۔ اس کو پہلے بیس منٹ میں مکمل کر کے تاہم مرکز کے حوالے کر دیا جائے۔ کاٹ کر دوبارہ لکھنے کی اجازت نہیں۔ لیز پینل کا استعمال ممنوع ہے۔

- (10) سوال نمبر: الف: دیے گئے الفاظ یعنی الف ر ب ج رو میں سے درست جواب کے گرد دائرہ لگائیں۔ ہر جزو کا ایک نمبر ہے۔
- (i) قائد اعظم نے \_\_\_\_\_ میں کانگریس کو چھوڑ دیا۔
- الف - 1918 ء      ب - 1919 ء      ج - 1920 ء      د - 1921 ء
- (ii) حاجی شریعت اللہ کا انتقال \_\_\_\_\_ میں ہوا۔
- الف - 1838 ء      ب - 1840 ء      ج - 1841 ء      د - 1842 ء
- (iii) دوسری اسلامی سربراہی کانفرنس لاہور میں \_\_\_\_\_ میں منعقد ہوئی۔
- الف - 1972 ء      ب - 1973 ء      ج - 1974 ء      د - 1975 ء
- (iv) پاکستان اور ایران کی مشترکہ سرحد \_\_\_\_\_ کلومیٹر طویل ہے۔
- الف - 800      ب - 820      ج - 840      د - 850
- (v) KANUP کی کل پیداواری صلاحیت \_\_\_\_\_ میگاواٹ ہے۔
- الف - 135      ب - 137      ج - 140      د - 142
- (vi) آزادی کے وقت پاکستان میں کپڑے کے کارخانوں کی کل تعداد صرف \_\_\_\_\_ تھی۔
- الف - 10      ب - 12      ج - 15      د - 17
- (vii) 1998ء کی مردم شماری کے مطابق پاکستان میں \_\_\_\_\_ افرادی مربع کلومیٹر آباد ہیں۔
- الف - 150      ب - 160      ج - 164      د - 172
- (viii) پہلا بلوچی رسالہ \_\_\_\_\_ میں شائع ہوا۔
- الف - 1958 ء      ب - 1960 ء      ج - 1962 ء      د - 1964 ء
- (ix) 2000ء میں پاکستان میں شرح خواندگی کا اندازہ \_\_\_\_\_ فی صد لگایا گیا تھا۔
- الف - 45      ب - 47      ج - 49      د - 50
- (x) پاکستان کے ہر پانچ میں سے صرف \_\_\_\_\_ بچے اسکول جاتا جاتے ہیں۔
- الف - 1      ب - 2      ج - 3      د - 4

(5) ب۔ دیے گئے نقشے پر غور کیجیے اور مندرجہ ذیل مقامات کی نقشے پر نشاندہی کیجیے:

(E) - دریا -	(D) - ہوائی اڈہ -	(C) - درہ -	(B) - ملک -	(A) - ڈیم -
--------------	-------------------	-------------	-------------	-------------





# PAKISTAN STUDIES SSC-II

(Old Syllabus)

16

Time allowed: 2:40 Hours

Total Marks Sections B and C: 60

NOTE:- Answer any twelve parts from Section 'B' and any two questions from Section 'C' on the separately provided answer book. Use supplementary answer sheet i.e. Sheet-B if required. Write your answers neatly and legibly.

### SECTION - B (Marks 36)

- Q. 2 Attempt any TWELVE parts. The answer to each part should not exceed 3 to 4 lines. (12 x 3= 36)
- What were the aims and objectives of All India Muslim League at the time of its formation?
  - Who was the viceroy of India at the time of Partition of Bengal? When and why was this partition annulled?
  - Who was the head of the boundary commission? When was his Award announced?
  - Define Doab. Name four Doabs of Punjab.
  - What is meant by climate?
  - Name any six major crops of kharif.
  - Name the three main types of canals in Pakistan.
  - What is livestock?
  - Write a brief note on Agro-Based industry in Pakistan.
  - What is meant by means of communication?
  - Define E-commerce.
  - What is meant by the term migration? Name two kinds of migration.
  - What did Quaid-e-Azam say in his first Eid message after the creation of Pakistan?
  - Differentiate between formal and informal education.
  - What is an objective test?
  - Write three causes of Pakistan's very high population growth rate.

### SECTION - C (Marks 24)

Note: Attempt any TWO questions. All questions carry equal marks.

(2 x 12 = 24)

- Q. 3 Explain ideology of Pakistan in the Islamic perspective.
- Q. 4 Describe the salient features and importance of the objective resolution.
- Q. 5 Write comprehensive notes on both Punjabi and Sindhi languages.

### حصہ دوم (کل نمبر 36)

(12x3=36)

سوال نمبر ۲: مندرجہ ذیل میں سے بارہ (12) اجزاء کے تین سے چار سطور پر مشتمل جواب دیجیے:

- آل انڈیا مسلم لیگ کے قیام کے وقت اس کے اغراض و مقاصد کیا تھے؟
- تقسیم بنگال کے وقت ہندوستان کا وائسرائے کون تھا؟ تقسیم بنگال کو کب اور کیوں منسوخ کیا گیا؟
- حد بندی کمیشن کا سربراہ کون تھا؟ اس کمیشن کے فیصلہ کا کب اعلان کیا گیا؟
- دو آب سے کیا مراد ہے؟ پنجاب کے چار دو آبوں کے نام لکھیں۔
- آب و ہوا سے کیا مراد ہے؟
- خریف کی کوئی سی چھ بڑی فصلوں کے نام لکھیں۔
- پاکستان کی نہروں کی تین بڑی اقسام کے نام لکھیں۔
- لائسٹاک سے کیا مراد ہے؟
- ذرائع مواصلات سے کیا مراد ہے؟
- نقل مکانی سے کیا مراد ہے؟ نقل مکانی کی دو اقسام کون سی ہیں؟
- ای کامرس کی تعریف کیجیے۔
- رسی اور غیر رسی تعلیم کا فرق بیان کریں۔
- قائد اعظم نے آزادی کے بعد اپنے پہلے پیغام عید میں کیا فرمایا؟
- معروضی ٹیسٹ کیا ہوتا ہے؟
- پاکستان میں اضافہ آبادی کی انتہائی بلند شرح کے تین اسباب لکھیے۔

### حصہ سوم (کل نمبر 24)

(2x12=24)

(کوئی سے دو سوال حل کیجیے۔ تمام سوالوں کے نمبر برابر ہیں۔)

سوال نمبر ۳: اسلامی عقائد کے تناظر میں نظریہ پاکستان کی توجیح کیجیے۔

سوال نمبر ۴: قرار و مقاصد کے اہم نکات اور اہمیت بیان کیجیے۔

سوال نمبر ۵: پنجابی اور سندھی زبانوں پر جامع نوٹ لکھیے۔

